

# קורס הכנה בפיזיקה לכיתה יב בשפה הערבית

פרק 18

## גלי מים (גלים דו ממדיים)

1	.....	תכונות גלי מים
4	.....	התאבכות גלי מים

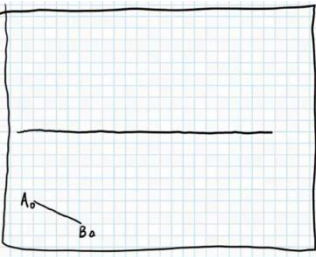
## תכונות גלי מים:

### שאלות:

#### (1) תרגיל החזרה גלים דו ממדיים

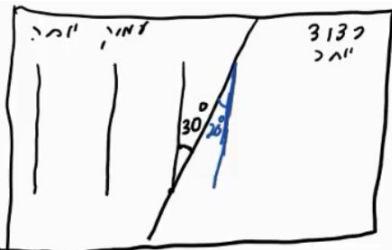
נתון אמבט הגלים הבא בו מתקדם גל ישר  $A_0B_0$ . באמבט קיים גם מחסום.

- הוסף לתרשים חץ המתאר את כיוון התקדמות הגל  $A_0B_0$ .
- הוסף לתרשים את חזית הגל לאחר שהחזרה מהמחסום.
- הוסף לתרשים חיצים המתארים את זוויות פגיעת והחזרת הגל כפי שהן מוחזרות לאור.
- הוסף לתרשים חיצים המתארים את זוויות פגיעת והחזרת הגל כפי שהן מוחזרות לגלי מים.
- הוסיפו לתרשים את חזית הגל, ברגע שבו אמצע חזית הגל נוגעת במחסום.



#### (2) תרגול מעבר תווך גלי מים

נתון אמבט גלים בו נע גל לפי התרשים הבא. במרכז האמבט מוקם מחסום כך שגובה המים בחלק הימני נמוך יותר. מקור גלים בקצה השמאלי של האמבט מייצר גל ישר מחזורי בתדירות 4 הרץ. מהירות הגל במים בחלק העמוק היא 20 ס"מ לשנייה. הגל מתקדם ועובר לתווך הימני כמתואר בתרשים.



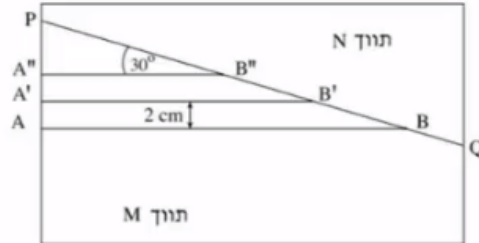
- מה מהירות גל המים בתווך הרדוד יותר?
- מהו אורך הגל  $\lambda_1$  בחלק העמוק?
- מהו אורך הגל  $\lambda_2$  בחלק הרדוד?
- הוסיפו לתרשים (איכותית) עוד 2 אורכי גלים לאחר מעבר גל המים לתווך הרדוד.

#### (3) תרגול אנרגיה ומשרעת של גל

- גל מעגלי מתפשט באמבט גלים. משרעתו, כשהיה מעגל ברדיוס 3cm, הייתה 1cm.
- פי כמה תהיה קטנה האנרגיה שלו כשיתפשט לרדיוס של 15cm?
  - מה תהיה משרעתו במצב זה?

4 בגרות 2003

התרשים שלפניך מתאר מבט מלמעלה על אמבט גלים ובו מים.



קו ההפרדה PQ מפריד בין תווך M לתווך N. עומק המים בתווך M שונה מעומק

המים בתווך N. גודל מהירות הגלים הוא  $10 \frac{m}{sec}$  בתווך M, ו-  $15 \frac{m}{sec}$  בתווך N.

הקווים: AB, A'B' ו-A''B'' מתארים שלושה קווי שיא עוקבים של גל הנפלט ממקור הגלים. המרחק בין שני קווי שיא עוקבים, לדוגמה בין AB ל-A'B', הוא 2cm, והזווית בין כל אחד מקווי השיא ובין הקו PQ היא  $30^\circ$ .

א. מהי התדירות של מקור הגלים?

ב. מהו אורך הגל בתווך N?

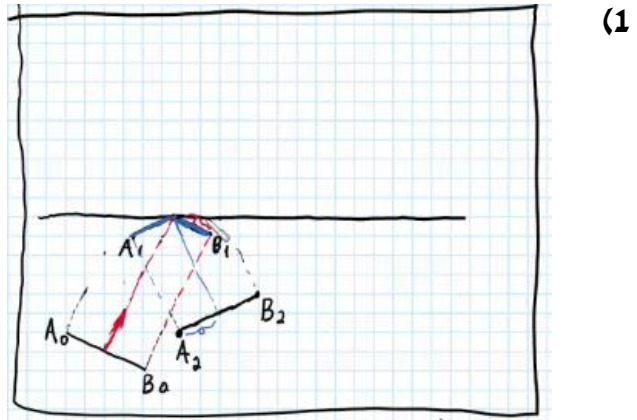
ג. חשב את זווית השבירה של הגל בתווך N.

ד. העתק את התרשים למחברתך, והוסף לו את המשך קווי השיא A'B' ו-A''B'' בתווך N. סמן בחץ את כיוון ההתקדמות של הגל בתווך N, וסמן את זווית השבירה.

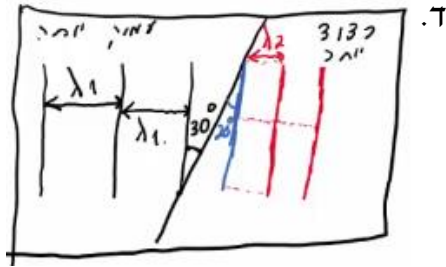
חוזרים על הניסוי במערכת שבה הזווית בין קווי השיא בתוך M ובין קו ההפרדה PQ היא  $60^\circ$ .

ה. ציין מהו הכיוון של התקדמות הגל במקרה זה, והסבר אותו. (אפשר להיעזר בסרטוט).

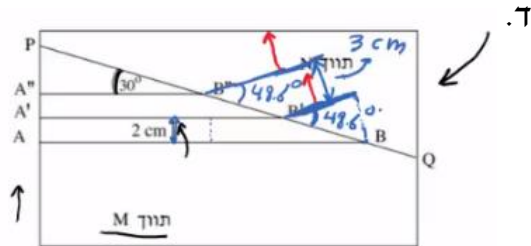
תשובות סופיות:



- (2) א.  $v_2 = 13.7 \frac{\text{cm}}{\text{sec}}$     ב.  $\lambda_1 = 5\text{cm}$     ג.  $\lambda_2 = 3.42\text{cm}$



- (3) א. 5    ב. 0.45cm
- (4) א.  $f = 500\text{Hz}$     ב.  $\lambda_2 = 3\text{cm}$     ג.  $\theta_2 = 48.6^\circ$




ה.  $\theta_2 = X$ , אין פתרון לשבירה, הגל רק יוחזר.

## התאבכות גלי מים:

שאלות:

### (1) התאבכות גלי מים – תרגיל 1

נתון תרשים של אמבט גלים ובו 2 מקורות בעלי אורך גל זהה ושווי מופע.  
קווים רציפים מייצגים שיא בגל וקווים מקווקוים – שפל.  
זהו את קווי המקסימום והמינימום בתרשים.



### (2) התאבכות גלי מים – תרגיל 2

נתון אמבט גלים בו 2 מקורות שהמרחק ביניהם 7 ס"מ.  
המקורות מכים במים במופע זהה בתדירות 20 הרץ.  
מהירות התקדמות הגלים באמבט היא 25 ס"מ לשנייה.

א. מה אורך הגל של הגלים שיוצרים המקורות?


ב. קבע, לגבי כל אחת מהנקודות הבאות: A, B, C, D בתרשים,  
האם היא על קו מקסימום, על קו מינימום או נקי ביניים:

- i. A - מרחקה מהמקור הראשון - 4 ס"מ ומהמקור השני - 2.8 ס"מ.
- ii. B - מרחקה מהמקור הראשון - 5 ס"מ ומהמקור השני - 3.2 ס"מ.
- iii. C - מרחקה מהמקור הראשון - 7 ס"מ ומהמקור השני - 3.4 ס"מ.
- iv. D - מרחקה מהמקור הראשון - 8 ס"מ ומהמקור השני - 6.5 ס"מ.

ג. כמה קווי מקסימום וכמה קווי מינימום יופיעו באמבט?

3) בגרות מים 2017


תלמיד חקר גלים מכניים באמצעות תכנת סימולציה. בתכנה הוא קבע תדירות הגל:  $f = 400\text{Hz}$ , וקיבל את תבנית הגלים הנראית בתרשים 1 שלפניך.



תרשים 1

- א. התלמיד חישב את אורך הגל בעזרת תרשים 1 (שים לב ליחידות של הסרגל).
- התלמיד מדד את אורך הקטע AB ואת אורך הקטע AC. מבין שתי המדידות, איזו מדידה מאפשרת חישוב מדויק יותר של אורך הגל? הסבר מדוע.
  - חשב את אורך הגל.
- ב. חשב את מהירות הגל.
- ג. לפי התרשים, קבע אם התווך שהגלים מתקדמים בו הוא אחיד. נמק את קביעתך.

בניסוי אחר הגדיר התלמיד בתכנת הסימולציה שני מקורות  $S_1$  ו- $S_2$  המייצרים גלים זהים. הוא מודד את עוצמת האות שהתקבלה בשלוש נקודות שונות: C, B, A (ראה תרשים 2).



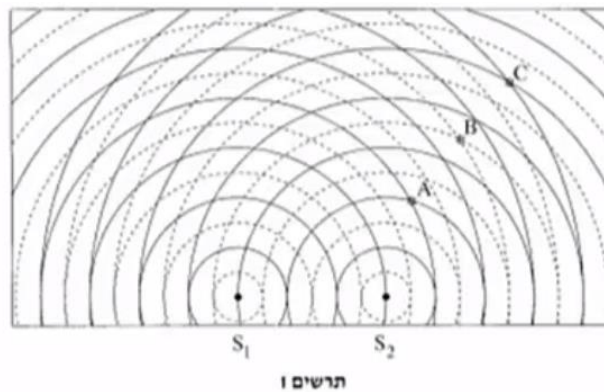
תרשים 2

- ד. ענה על הסעיפים הבאים:
- קבע את סוג ההתאבכות (בונה/הורסת/אחרת) בכל אחת משלוש הנקודות.
  - עבור כל אחת מן הנקודות, בטא באמצעות אורך הגל את ההפרש בין מרחק הנקודה מן המקור  $S_1$  ובין המרחק שלה מן המקור  $S_2$ .

- ה. דרג את שלוש הנקודות לפי עוצמת האות שנמדדה בהן, מן העוצמה הגבוהה לעוצמה הנמוכה. הסבר את תשובתך.  
ו. קבע מה יהיה סוג ההתאבכות בכל אחת משלוש הנקודות, אם הפרש המופע בין המקור  $S_1$  ובין המקור  $S_2$  יהיה חצי זמן מחזור.


**4) בגרות מים 2016**

- בתרשים שלפניך מוצג סרטוט של אמבט גלים, ובו 2 כדורים קטנים  $S_1$  ו- $S_2$  הרוטטים בתדירות של:  $f = 10\text{Hz}$ . שני הכדורים הם מקורות שווי מופע לגלים. המעגלים המוצגים בקו רציף מציינים את השיאים של הגלים ברגע נתון, והמעגלים המוצגים בקו מקווקו מציינים את השפלים של הגלים באותו רגע. המרחק בין הכדור  $S_1$  לכדור  $S_2$  הוא 6cm.



- א. על פי תרשים 1, מצא את אורך הגל  $\lambda$  של הגלים הנוצרים באמבט. פרט את חישוביך.  
ב. חשב את המהירות  $v$  של הגלים באמבט.  
ג. בנוגע לכל אחת מהנקודות: A, B, C, המסומנות בתרשים 1, ענה על התת-סעיפים i-ii:  
i. בטא באמצעות אורך הגל  $\lambda$  את הפרשי המרחקים:  $CS_1 - CS_2$ ,  $BS_1 - BS_2$ ,  $AS_1 - AS_2$ .  
ii. על פי הפרשי המרחקים שמצאת, קבע את סוג ההתאבכות (בונה/הורסת/אחרת) בכל אחת מהנקודות. הסבר את קביעותיך.  
ד. נקודה D, שאינה מסומנת בתרשים, נמצאת על קו מקסימום מהסדר השני. נתון: המרחק של הנקודה D מן המקור  $S_2$  הוא: 8.2cm.  
חשב את מרחקה של נקודה D מן המקור  $S_1$ .  
שים לב: יש שתי תשובות אפשריות. מצא את שתיהן.

בתרשים 2 שלפניך מוצג תצלום של אמבט גלים אחר.  
נתון: התדירות של כל אחד משני המקורות:  $f = 10\text{Hz}$ .



צילמו את האמבט פעם נוספת 0.55 שניות לאחר הצילום הראשון.  
התצלום השני אינו מוצג.


ה. ענה על הסעיפים הבאים:

- i. קבע אם המיקום של הפסים האפורים בתצלום השני שונה ממקומם בתצלום הראשון. נמק את קביעתך.
- ii. קבע אם המיקום של האזורים השחורים בתצלום השני שונה ממקומם בתצלום הראשון. נמק את קביעתך.

**5) בגרות 2014**

באמבט גלים נמצאים שני כדורים המתגודדים בתדירות  $25\text{Hz}$ .  
הכדורים משמשים שני מקורות נקודתיים:  $S_1$  ו- $S_2$ , לגלים מעגליים שווי מופע.  
מקומן של נקודות השיא (מקסימום) של כל גל בנפרד ברגע מסוים מסומנות בתרשים שלפניך בקווים רציפים, ומקומן של נקודות השפל (מינימום) של כל גל בנפרד באותו רגע מסומנות בקווים מקווקווים.

הגל שיוצר כל אחד משני הכדורים מתפשט במים במהירות:  $50 \frac{\text{cm}}{\text{sec}}$ .




א. חשב את אורך הגל,  $\lambda$ , שיוצר כל אחד משני הכדורים.



- ב. בתרשים מסומנות שלוש הנקודות:  $A_1$ , B ו-C. קבע אם נוצרת בכל אחת משלוש הנקודות האלה התאבכות בונה או התאבכות הורסת או שהנקודה היא נקודת ביניים. נמק את קביעותיך.
- ג. ענה על הסעיפים הבאים:
- קבע על פי התרשים, כמה קווי מקסימום יש בתבנית ההתאבכות?
  - מהו הסדר המרבי של קווי המקסימום?
- ד. היעזר בתרשים וקבע אם המרחק  $A_2$ ,  $A_3$  גדול מאורך הגל  $\lambda$ , קטן ממנו או שווה לו. נמק.
- ה. הנח שאין איבוד אנרגיה לסביבה, וקבע אם ברגע המתואר בתרשים גובה פני המים בנקודה  $A_3$  גדול יותר, קטן יותר או שווה לגובה פני המים בנקודה  $A_1$ .

6 בגרות 2006

- תלמיד הציב על שולחן אמבט גלים ובו שני כדורים קטנים, שכל אחד מהם מתנווד בתדירות של 25Hz. הכדורים מהווים שני מקורות נקודתיים שווי-מופע ושווי-משרעת של גלי מים.
- לפניך תצלום של תמונת הגלים שהתפשטו על פני המים.  $S_1$  ו-  $S_2$  מסמנים את שני מקורות הגלים.

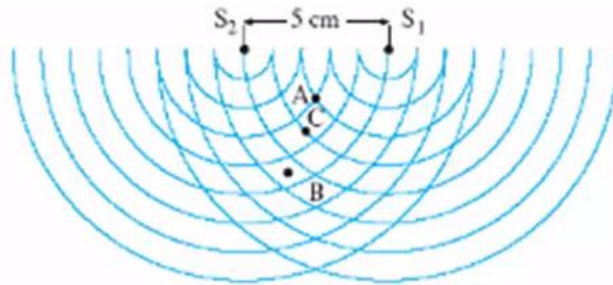


- א. התלמיד מצא כי מרחק הנקודה A (ראה תצלום) מ-  $S_1$  הוא 34 ס"מ, ומרחקה מ-  $S_2$  הוא 33 ס"מ.  
מהו אורך הגל של כל אחד מהגלים הנוצרים על ידי המקורות?
- ב. מהו הפרש המרחקים של הנקודה B (ראה תצלום) משני המקורות  $S_1$  ו-  $S_2$ ?
- ג. מהי מהירות ההתפשטות של הגלים?
- ד. אם שני מקורות הגלים יתנוודו במופע מנוגד ("אנטי פאזה"), האם תבנית ההתאבכות תהיה שונה מזו המוצגת בתצלום? אם לא – הסבר מדוע.  
אם כן – מה יהיה השוני בין שתי התבניות?
- ה. תאר מערכת ניסוי שבאמצעותה אפשר לראות תבנית התאבכות של אור על מסך.

1. מדוע אי-אפשר לראות תבנית התאבכות של גלי אור על מסך כאשר הוא מואר בשני פנסים שונים, אף אם הם מונוכרומטיים והמרחק ביניהם קטן מאוד?

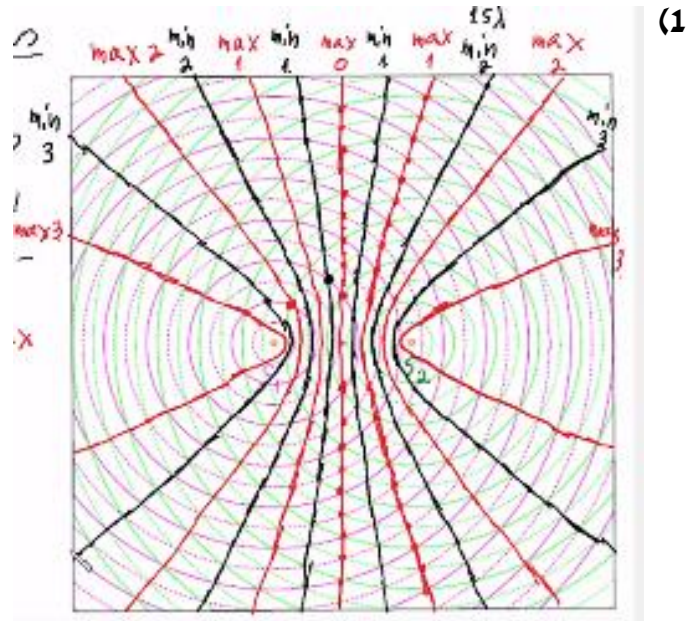
7) בגרות 1999

שני כדורים מתנוודדים, כל אחד בתדירות  $25\text{Hz}$ . הכדורים טובלים באמבט גלים, ומשמיים כשני מקורות נקודתיים  $S_1$  ו- $S_2$  לגלים מעגליים. המרחק בין המקורות הוא:  $5\text{cm}$ . התרשים שלפניך מתאר ברגע  $t = 0$  את חזיתות הגלים המתאימות לנקודות שנמצאות בשיא הגובה מעל פני המים (כפי שהיו במנוחה). ברגע זה כל אחד מהכדורים נמצא בנקודת שיא הגובה מעל פני המים.



- א. על פי התרשים, הסבר מדוע אורך הגל שיוצר כל מקור הוא:  $1\text{cm}$ .
- ב. לגבי כל אחת מהנקודות שבתת סעיפים i-v שלהלן, ציין אם נוצרת בה התאבכות בונה, התאבכות הורסת או שהיא נקודת ביניים:
- i. הנקודה A, המסומנת בתרשים. נמק.
  - ii. הנקודה B, המסומנת בתרשים. נמק.
  - iii. הנקודה C, המסומנת בתרשים. נמק.
  - iv. נקודה E, הנמצאת במרחק  $38\text{cm}$  מהמקור  $S_1$  ובמרחק  $39.5\text{cm}$  מהמקור  $S_2$ . נמק.
  - v. נקודה F, הנמצאת במרחק  $24\text{cm}$  מהמקור  $S_1$  ובמרחק  $28.2\text{cm}$  מהמקור  $S_2$ . נמק.
- ג. ענה על הסעיפים הבאים:
- i. חשב את זמן המחזור T של הגל הנוצר על ידי אחד המקורות.
  - ii. משרעת הגל (אמפליטודה) בנקודה A שיוצר כל מקור היא:  $0.4\text{cm}$ . סרטט גרף של העתק הנקודה A כפונקציה של הזמן מרגע  $t = T$  (זמן של מחזור אחד). רשום מספרים על הצירים. נקודת האפס למדידת העתק הגל תהיה פני המים במצב שבו אין גלים באמבט.

תשובות סופיות:



א. 1.2 ס"מ. (2)

ב.i. A - נקי מקסימום מסדר ראשון.

ב.ii. B - נקי צומת מסדר שני.

ב.iii. C - נקי מקסימום מסדר שלישי, נקי על קו מקסימום.

ב.iv. D - נקי ביניים.

ג. 11 קווי מקסימום, 12 קווי מינימום.

א.i. AC. ii.  $\lambda = 0.75\text{m}$ . ב.  $V = 300 \frac{\text{m}}{\text{sec}}$ . ג. תווך אחיד. (3)

ד.i. A : בונה, B : הורסת, C : בונה. ii.  $S_1A - S_2A = 0 = \Delta r$  : A

B :  $S_2B - S_1B = 0.375\text{m}$  , C :  $S_1C - S_2C = 0 = \Delta r$

ה. עוצמה גבוהה :  $E_C$  , עוצמה בינונית :  $E_A$  , עוצמה נמוכה :  $E_B = 0$ .

ו. A , C : נקודת צומת (מקסימום ← צומת) , B : נקודת מקסימום- התאבכות בונה מסדר ראשון ((צומת ← מקסימום).

א.  $\lambda = 2\text{cm}$ . ב.  $v = 20 \frac{\text{cm}}{\text{sec}}$ . ג.i.  $AS_1 - AS_2 = 2\lambda$  : A (4)

B :  $BS_1 - BS_2 = 2\lambda$  , C :  $CS_1 - CS_2 = 2\lambda$

ii. התאבכות בונה בכל הנקודות.

ד.  $S_1D = 12.2\text{cm} / 4.2\text{cm}$ . ה.i. לא. ii. כן.

א.  $\lambda = 2\text{cm}$ . ב. A , B : התאבכות בונה , C : נקודת ביניים. (5)

ג.i. 7. ii. סדר שלישי. ד. גדול. ה. קטן.

6) א.  $\lambda = 2\text{cm}$  . ב.  $\Delta r = 4\text{cm}$  . ג.  $V = 0.5 \frac{\text{m}}{\text{sec}}$  . ד. כן.

ה. ראה סרטון. ו. ראה סרטון.

7) א.  $d = 5\lambda = 5\text{cm} \rightarrow \lambda = 1\text{cm}$  . ב.i. בונה. ii. בונה.

iii. הורסת. iv. הורסת.

v. ביניים. ג.i.  $T = 0.04\text{sec}$  . ii.

