

קורס בפיזיקה לכיתה יא

פרק 16

אופטיקה גיאומטרית-כל הפרק ירד מבחינת הבגרות במיקוד קיץ 2026

1	כיצד רואים עצמים ותכונות קרני אור
2	החזרה של קרני אור
3	שבירת קרני אור וחוק סנל
5	עדשות
21	מבחי בגרות באופטיקה

כיצד רואים עצמים ותכונות קרני אור:

שאלות:

1) אור במרחב

- מציבים מקור אור נקודתי מול מסך במרחק 4m מהמסך.
במרחק 1m ממקור האור מציבים מחסום בגובה 1.5m.
- שרטט את הבעיה בקנה מידה לבחירתך.
 - מצא את גודלו של הצל על הקיר:
 - בעזרת שרטוט.
 - בעזרת חישוב.
 - היכן היה צריך למקם המחסום, כדי שגודל הצל יהיה 2.5m?
 - מוסיפים מקור אור זהה (בניסוי המקורי), במרחק של 1m מתחת למקור הראשון. מצא, בעזרת שרטוט, את אזורי האור והצל השונים שמתקבלים.

2) אור במרחב 2

$$C = 3 \cdot 10^8 \frac{\text{m}}{\text{sec}}$$

מהירות האור בריק היא:

- היעזר בדף הנוסחאות, ומצא תוך כמה זמן מגיעה קרן אור שמוחזרת מהירח – אל כדור הארץ.
- מצא תוך כמה זמן מגיעה קרן היוצאת מהשמש אל כדור הארץ.
- אם אני מדליק פנס עכשיו, וחבר נמצא במרחק 3m ממני, תוך כמה זמן יגיע אליו האור מהפנס, מרגע שהדלקתי אותו?
- שנת אור מוגדרת כמרחק שאור עובר בשנה. מצאו מהי שנת אור בעזרת הגדרה זו.

תשובות סופיות:


1) א. ראה סרטון. ב. i. 6m ii. 6m ג. 2.4m ד. ראה סרטון.

2) א. $t = 1.28 \text{sec}$ ב. $t \cong 8 \frac{1}{3} \text{min}$ ג. $t = 10^{-9}$ ד. $9.47 \cdot 10^{15} \text{m}$

החזרה של קרני אור:

שאלות:

1) החזרה תרגיל 1



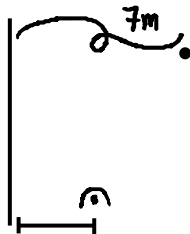
- נתון מקור אור הפולט אור ומולו מוצבת מראה.
הזווית α בשרטוט שווה 76° .
- מה זווית ההחזרה של הקרן המשורטטת בתרשים?
 - מצא, בעזרת שתי קרניים נוספות לבחירתך, את מיקום הדמות המדומה של העצם הנ"ל.
 - מצא את שדה הראייה של העצם הנ"ל.
 - מכסים בבד סגול את החצי העליון של המראה. האם עדיין תיווצר דמות של העצם?

2) החזרה תרגיל 2



- נתון התרשים הבא, בו נער בגובה 1.7m עומד לפני מראה.
א. שרטט קרן אור היוצאת מידו הימנית של הנער, פוגעת במראה וחוזרת לעיניו (הקרן מייצגת את הקרן/ הקרניים, שבזכותן הנער רואה את ידו במראה).
ב. שרטט (הכי מדויק שאפשר), את דמות הנער במראה.
ג. מציבים מאחורי המראה מסך סגול. האם עדיין יראה הנער את דמותו?
ד. מה הגובה המינימאלי של המראה שיש להציב, כדי שדמות הנער תתקבל במלואה?
ה. מרחיקים את המראה למרחק כפול מגוף הנער. כיצד תשתנה תשובתך לסעיף ד'?

3) החזרה תרגיל 3



- מציבים מטבע מול מראה, במרחק 7m ממנה, כמתואר בתרשים.
אדם שנמצא במורד התרשים רואה את המטבע בזווית 30° , ביחס לקו המקביל למראה, ואת דמותו של המטבע בזווית 50° .
חשב את מרחקו של האדם מהמראה.

תשובות סופיות:

- ראה סרטון.
- א. ראה סרטון. ב. ראה סרטון. ג. כן. ד. 0.85m. ה. ללא שינוי.
- 2.43m

שבירת קרני אור וחוק סנל:

שאלות:

(1) חוק סנל 1

- קרן לייזר מתקדמת במים ($n_{\text{water}} = 1.33$), ופוגעת במשטח זכוכית ($n_{\text{glass}} = 1.5$).
 חלק מהקרן נשבר לזכוכית וחלק מוחזר.
 הזווית בין פני המים והקרן הפוגעת היא 60° .
 א. חשבו את זווית השבירה.
 ב. שרטטו את המקרה הנ"ל.

(2) חוק סנל 2

- תלמיד שלח קרני אור בזוויות שונות מאוויר לעבר חומר שקוף בעל מקדם שבירה לא ידוע, ומדד את זוויות הפגיעה והשבירה המתאימה לה לזוויות פגיעה שונות. תוצאות המדידות בטבלה שלפניך:

θ_1	θ_2
0	0
10	7.33
20	14.57
30	21.57
40	28.21
50	34.28
60	39.55
70	43.71
80	46.40

- א. האם גרף $\theta_2(\theta_1)$ מצופה שיצא לינארי?
 ב. הגדר משתנים עבורם כן תצפה לקבל גרף לינארי.
 ג. שרטט גרף לינארי זה.
 ד. מצא, בעזרת הגרף, את מקדם השבירה של החומר השקוף הלא ידוע.

(3) החזרה גמורה תרגיל 1

קרן אור מתקדמת בזכוכית ($n = 1.5$), ופוגעת בגבול בין זכוכית זו ובין מים ($n = 1.33$), בזווית:

א. $\theta_1 = 0^\circ$

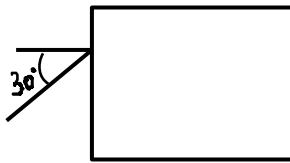
ב. $\theta_1 = 30^\circ$

ג. $\theta_1 = 70^\circ$

שרטט את המשך מהלך הקרן, לאחר הפגיעה, בכל אחד משלושת המקרים.

(4) החזרה גמורה תרגיל 2

נתון מלבן מפרספקס $n = 1.5$, כמתואר בתרשים. קרן אור, המגיעה משמאל, פוגעת בפרספקס בזווית פגיעה של 30° . השלם את מהלך הקרן בתוך הפרספקס.



תשובות סופיות:

(1) א. 26.3° ב. ראה סרטון.

(2) א. לא. ב. $\sin \theta_2 = \frac{n_1}{n_2} \cdot \sin \theta_1$ ג. ראה סרטון. ד. 1.353.

(3) ראה סרטון.

(4) ראה סרטון.

מבוא לאופטיקה:

שאלות:

(1) תרגול אור במרחב


- מציבים מקור אור נקודתי מול מסך במרחק 4m מהמסך. במרחק 1m ממקור האור מציבים מחסום בגובה 1.5m.
- שרטט את הבעיה בקנה מידה לבחירתך.
 - מצא את גודלו של הצל על הקיר:
 - בעזרת שרטוט.
 - בעזרת חישוב.
 - היכן היה צריך למקם המחסום, כדי שגודל הצל יהיה 2.5m?
 - מוסיפים מקור אור זהה (בניסוי המקורי), במרחק של 1m מתחת למקור הראשון. מצא, בעזרת שרטוט, את אזורי האור והצל השונים שמתקבלים.

(2) תרגול אור במרחב 2

מהירות האור בריק היא: $C = 3 \cdot 10^8 \frac{m}{sec}$.

- היעזר בדף הנוסחאות, ומצא תוך כמה זמן מגיעה קרן אור שמוחזרת מהירח – אל כדור הארץ.
- מצא תוך כמה זמן מגיעה קרן היוצאת מהשמש אל כדור הארץ.
- אם אני מדליק פנס עכשיו, וחבר נמצא במרחק 3m ממני, תוך כמה זמן יגיע אליו האור מהפנס, מרגע שהדלקתי אותו?
- שנת אור מוגדרת כמרחק שאור עובר בשנה. מצאו מהי שנת אור בעזרת הגדרה זו.

(3) החזרה תרגיל 1



- נתון מקור אור הפולט אור ומולו מוצבת מראה. הזווית α בשרטוט שווה 76° .
- מה זווית ההחזרה של הקרן המשורטטת בתרשים?
 - מצא, בעזרת שתי קרניים נוספות לבחירתך, את מיקום הדמות המדומה של העצם הנ"ל.
 - מצא את שדה הראייה של העצם הנ"ל.
 - מכסים בבד סגול את החצי העליון של המראה. האם עדיין תיווצר דמות של העצם?

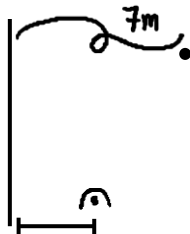
4 החזרה תרגיל 2



- נתון התרשים הבא, בו נער בגובה 1.7m עומד לפני מראה.
 א. שרטט קרן אור היוצאת מידו הימנית של הנער, פוגעת במראה וחוזרת לעיניו (הקרן מייצגת את הקרן/ הקרניים, שבזכותן הנער רואה את ידו במראה).
 ב. שרטט (הכי מדויק שאפשר), את דמות הנער במראה.
 ג. מציבים מאחורי המראה מסך סגול. האם עדיין יראה הנער את דמותו?

- ד. מה הגובה המינימאלי של המראה שיש להציב, כדי שדמות הנער תתקבל במלואה?
 ה. מרחיקים את המראה למרחק כפול מגוף הנער. כיצד תשתנה תשובתך לסעיף ד'?

5 החזרה תרגיל 3



- מציבים מטבע מול מראה, במרחק 7m ממנה, כמתואר בתרשים.
 אדם שנמצא במורד התרשים רואה את המטבע בזווית 30° , ביחס לקו המקביל למראה, ואת דמותו של המטבע בזווית 50° .
 חשב את מרחקו של האדם מהמראה.

6 תרגול חוק סנל 1

- קרן לייזר מתקדמת במים ($n_{\text{water}} = 1.33$), ופוגעת במשטח זכוכית ($n_{\text{glass}} = 1.5$).
 חלק מהקרן נשבר לזכוכית וחלק מוחזר. הזווית בין פני המים והקרן הפוגעת היא 60° .
 א. חשבו את זווית השבירה.
 ב. שרטטו את המקרה הנ"ל.

7 תרגול חוק סנל 2

- תלמיד שלח קרני אור בזוויות שונות מאוויר לעבר חומר שקוף בעל מקדם שבירה לא ידוע, ומדד את זוויות הפגיעה והשבירה המתאימה לה לזוויות פגיעה שונות. תוצאות המדידות בטבלה שלפניך:

θ_1	θ_2
0	0
10	7.33
20	14.57
30	21.57
40	28.21
50	34.28
60	39.55
70	43.71
80	46.40

- א. האם גרף $\theta_2(\theta_1)$ מצופה שיצא לינארי?
 ב. הגדר משתנים עבורם כן תצפה לקבל גרף לינארי.
 ג. שרטט גרף לינארי זה.
 ד. מצא, בעזרת הגרף, את מקדם השבירה של החומר השקוף הלא ידוע.

8 החזרה גמורה תרגיל 1

קרן אור מתקדמת בזכוכית ($n = 1.5$), ופוגעת בגבול בין זכוכית זו ובין מים ($n = 1.33$), בזוויות:

א. $\theta_1 = 0^\circ$

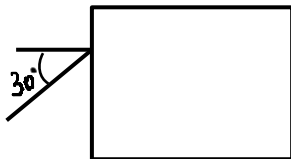
ב. $\theta_1 = 30^\circ$

ג. $\theta_2 = 70^\circ$

שרטט את המשך מהלך הקרן, לאחר הפגיעה, בכל אחד משלושת המקרים.

9 החזרה גמורה תרגיל 2

נתון מלבן מפרספקס $n = 1.5$, כמתואר בתרשים. קרן אור, המגיעה משמאל, פוגעת בפרספקס בזווית פגיעה של 30° . השלם את מהלך הקרן בתוך הפרספקס.



10 עדשה מרכזת - תרגיל 1

נתונה עדשה מרכזת בעלת מוקד $f = 8\text{cm}$.

נתון עצם, בגובה $H_0 = 4\text{cm}$ המונח במרחק 12cm מהעדשה.

א. מצא בעזרת שרטוט את:

- i. מיקום הדמות הנוצרת.
- ii. גובה הדמות.
- iii. ההגדלה הקווית.

ב. מצא בעזרת חישובים את:

- i. מיקום הדמות.
- ii. גובה הדמות.

ג. מצא מה אופי הדמות.

ד. שרטט שתי קרניים היוצאות ממרכז העצם, פוגעות בעדשה וממשיכות לצדה השני.

(11) עדשה מרכזת - תרגיל 2

- לעדשה מרכזת מרחק מוקד של 11cm .
 מציבים עצם, שגובהו 5cm , במרחק 4cm מעדשה זו.
- א. מצא בעזרת שרטוט את :
- i. מרחק הדמות מהעדשה.
 - ii. גובה הדמות.
 - iii. ההגדלה הקווית.
- ב. מצא בעזרת חישוב מספרי את :
- i. מרחק הדמות מהעדשה.
 - ii. גובה הדמות.
- השווה תשובותיך לסעיף ב, עם אלה של סעיף א.
- ג. מניחים מסך במיקום הדמות.
 האם ניתן לראות את הדמות על המסך?
- ד. מניחים וילון שחור על המחצית העליונה של העדשה (מכסים אותה).
 האם ניתן לראות את הדמות?
- ה. מסירים וילון זה. ומניחים אותו בין העצם ודמותו.
 האם עכשיו ניתן לראות את דמות העצם?

(12) עדשה מפזרת – תרגיל 1

- נתונה עדשה שעוצמתה $C = 10D$.
 לפני העדשה, במרחק $u = 8\text{cm}$, מניחים עצם שגובהו $H_0 = 4\text{cm}$.
- א. מצא בעזרת חישוב את :
- i. מיקום הדמות.
 - ii. גובהה.
 - iii. אופי הדמות.
- ב. מצא בעזרת שרטוט את :
- i. מיקום הדמות.
 - ii. גובהה.
- ג. מהיכן ניתן לראות את הקצה העליון של דמות העצם (שדה ראייה)?

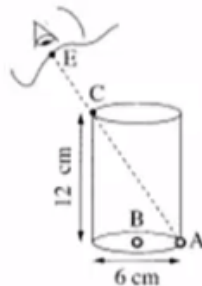
13) בגרות 2017 שאלה 6

רמי ישב ליד בריכה ריקה. בתחתית הבריכה הונח מטבע, אבל ממקום מושבו של רמי לא היה אפשר לראות את המטבע כשהבריכה ריקה. התחילו למלא את הבריכה במים, וברגע מסוים ראה רמי את המטבע (רמי והמטבע לא זזו). מקדם השבירה של המים הוא: $n = 1.33$.
א. הגדר את תופעת השבירה של האור, וציין את סיבתה.
ב. הסבר מדוע ראה רמי את המטבע רק לאחר שהבריכה התמלאה חלקית במים. לווה את תשובתך בסרטוט מהלך קרניים.

נתון: קרן היוצאת מן המטבע ומגיעה לעין של רמי עוברת בתוך המים מרחק $d = 0.61\text{m}$.
זווית השבירה של קרן זו היא: $\beta = 13.6^\circ$.
ג. חשב את עומק המים.

14) בגרות 2016 שאלה 7

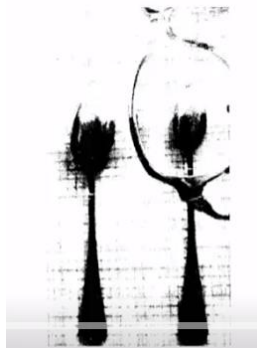
בתרשים שלפניך מוצב כלי ריק שצורתו גליל. גובה הכלי 12cm וקוטרו 6cm. בתחתית הכלי מונחים שני חרוזים קטנים מאוד: חרוז A צמוד לדופן הכלי וחרוז B במרכז התחתית של הכלי.



תלמיד הביט אל תוך הכלי בכיוון EC (הנקודה C נמצאת על שפת הכלי). כאשר הכלי היה ריק התלמיד ראה את חרוז A בלבד. מילאו את הכלי עד שפתו בנוזל שקוף. התלמיד הסתכל באותו כיוון וראה את חרוז B בלבד.
א. העתק את תרשים הכלי והעין למחברתך בלי הקו המקווקו. הוסף לתרשים שבמחברתך קרן אור שמגיעה מחרוז B, עוברת בתוך הנוזל אל נקודה C ומגיעה לעין התלמיד.
סמן בתרשים שבמחברתך את זווית הפגיעה (α) ואת זווית השבירה (β) במעבר של קרן האור מהנוזל לאוויר.
ב. חשב את מקדם השבירה של הנוזל.
ג. קבע אם חרוז B נראה לתלמיד בעומק האמיתי שהוא היה בו, גבוה יותר או נמוך יותר. נמק את קביעתך באמצעות סרטוט תרשים נוסף של הכלי ומהלך הקרניים.

15) בגרות 2016 שאלה 6

תלמידה רצתה לבדוק את סוג העדשות במשקפיים של דודתה. לשם כך הניחה התלמידה שתי כפיות זהות על השולחן, והניחה עדשה של המשקפיים מעל אחת הכפיות. בתרשים שלפניך נראה תצלום הכפיות והמשקפיים שצילמה התלמידה.



- א. בכל אחת מן האפשרויות i-iii שלפניך, קבע מהו המאפיין הנכון של דמות הכפית הנראית מבעד לעדשה:
- i. ישרה או הפוכה.
 - ii. ממשית או מדומה.
 - iii. מוגדלת או מוקטנת.
- ב. האם העדשה מרכזת או מפזרת? נמק את תשובתך.
- ג. מצא את דמות הכפית באמצעות סרטוט מדויק של מהלך שלוש קרניים. נתון: רוחק מוקד העדשה: $|f| = 12\text{cm}$, מרחק העצם מהעדשה 6cm, גובה העצם 3cm.
- בסרטוט השתמש בקנה מידה של 1 משבצת=1 ס"מ.
- ד. חשב באמצעות נוסחאות את גובה הדמות ואת מרחקה מהעדשה. האם תוצאות החישוב מתאימות לאותם ערכים שהתקבלו בסרטוט?

16 בגרות 2015 שאלה 7

ילד הלובש חולצה שעליה מודפסת האות F עומד מול מראה מישורית התלויה על קיר (ראה איור).



- א. מהי התופעה הפיזיקאלית שגורמת להשתקפות הילד רק במראה ולא בקיר?
 ב. המרחק של הילד מן המראה היה 1 מטר, והוא החל להתקרב אליה

$$v = 0.5 \frac{\text{m}}{\text{sec}}$$

- במהירות קבועה: חשב בתוך כמה זמן יהיה המרחק בין הילד ובין דמותו 0.5 מטר.
 ג. לפניך ארבע צורות IV-I של האות F. העתק למחברתך את המספר של צורת הדמות של האות F, כפי שהילד שמסתכל במראה רואה אותה.



17 בגרות 2014 שאלה 6

יאיר ישב במכונית ורצה לעיין במפה שבידיו (זה היה לפני עידן ה-G.P.S).
 בחוץ שרר חושך, ולכן יאיר הדליק נורה בתוך המכונית.

- א. כדי שיראה היטב את המפה, האם על יאיר לכוון את אלומת האור מן הנורה לעבר עיניו או לעבר המפה? נמק.

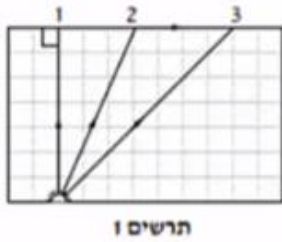
- לאחר שיאיר הדליק את הנורה הוא התבונן בשמשת החלון של מכוניתו. הוא לא ראה את הסביבה שבחוץ, אלא את דמותו המשתקפת בשמשת החלון.
 ב. הסבר באמצעות תרשים כיצד נוצרת הדמות המשתקפת בשמשת החלון.

יאיר מאס בפקקי התנועה שבכבישים, והחליט לנסוע ברכבת. בתוך קרון הרכבת דלק אור, ומחוץ לרכבת שרר חושך. יאיר הבחין בשתי דמויות שלו המשתקפות בחלון הרכבת. חלון הרכבת מורכב משני לוחות זכוכית מקבילים וביניהם מרווח שבו שכבת אוויר. אפשר להזניח את העובי של לוחות הזכוכית.

- ג. מדוע ברכבת הבחין יאיר בשתי דמויות, ולא בדמות אחת, כפי שראה במכוניתו? פרט את תשובתך.

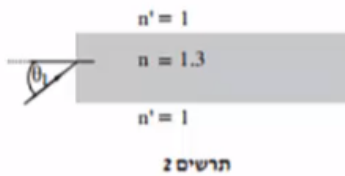
- ד. באותם תנאי תאורה הכניסו נייר שחור למרווח שבין שני לוחות הזכוכית. הנייר אוטם את כל המרווח. כמה דמויות השתקפו בחלון? נמק.

18) בגרות 2014 שאלה 7



מקור אור נקודתי נמצא בתוך מנסרה מלבנית (תיבה) העשויה מחומר שקוף. המנסרה נמצאת באוויר. בתרשים 1 מוצג חתך של המנסרה המקביל לשתיים מדופנות המנסרה, וכן מוצג בו מהלכן של שלוש קרניים 1, 2, 3, שמקורן במקור האור. זווית השבירה של קרן 2 היא 90° בקירוב.

- העתק את תרשים 1 למחברתך, והשלם בו במדויק את המשך המהלך של קרן 1 ושל קרן 3. הסבר את שיקולך.
- על פי התרשים, חשב את הזווית הגבולית (קריטית) למעבר אור מן החומר השקוף לאוויר.

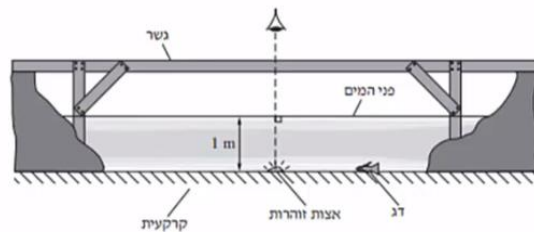


אפשר להעביר מידע למרחקים גדולים באמצעות סיבים אופטיים שאור מתפשט דרכם כמעט בלי הפסדי אנרגיה. בתרשים 2 מתואר חתך של סיב אופטי העשוי מחומר שקוף שמקדם השבירה שלו: $n = 1.3$, וקרן אור נכנסת לתוכו מן האוויר בזווית פגיעה θ_1 .

- כאשר האור נכנס לסיב מהצד (כמתואר בתרשים 2), זווית הפגיעה θ_1 צריכה להיות קטנה מ- 57° כדי למנוע דליפת (יציאת) אור מהסיב לאוויר. הסבר מדוע. בתשובתך היעזר בתרשים.

19) בגרות 2013 תרגיל 1

בגן חיות יש בריכה ובה דגים ויצורי מים מיוחדים. מושבה של אצות זוהרות (פולטות אור) נחה על קרקעית הבריכה, בעומק של 1 מטר. מקדם השבירה של מי הבריכה ביחס לאוויר הוא: $n = 1.33$. מעל הבריכה נמתח גשר שממנו המבקרים יכולים לצפות בבריכה (ראה תרשים). התייחס למושבת האצות כאל מקור אור נקודתי.

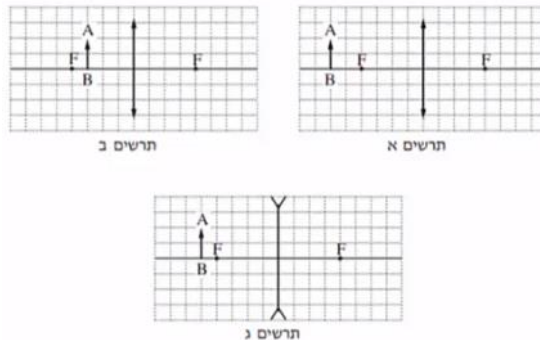


- האור שנפלט ממושבת האצות לעבר פני המים עובר לאוויר דרך משטח מעגלי של פני המים. הסבר מדוע. היעזר בתרשים מתאים.
- חשב את הרדיוס של המשטח המעגלי שהאור עובר דרכו לאוויר.
- אדם הניצב על הגשר בדיוק מעל מושבת האצות רואה אותה בעומק קטן יותר מהעומק האמיתי שהיא נמצאת בו. הסבר מדוע.

- ד. דג השוחה על קרקעית הבריכה, בעומק 1 מטר, רואה את השתקפות האצות באמצעות קרני אור המוחזרות מפני המים. חשב את המרחק (האופקי) המינימלי בין הדג לבין מושבת האצות, שהוא יכול לראות בו את השתקפות האצות באמצעות קרני אור המוחזרות בהחזרה מלאה.
- ה. כאשר הדג בעומק של 1 מטר, אבל המרחק בינו לבין מושבת האצות קטן יותר מהמרחק שחיבת בסעיף ד', הוא עדיין רואה את השתקפות האצות בפני המים. הסבר מדוע.

(20) בגרות 2013 שאלה 6

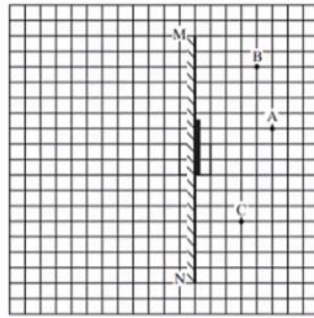
- אדם המרכיב משקפיים עם עדשות מרכזות זהות רואה בעזרתם את הדמות המדומה של עצם.
- א. הסבר את המושגים "דמות ממשית" ו"דמות מדומה", בהסברך תוכל להיעזר בתרשימים.
- ב. בתרשימים אי-ג' שלפניך החץ AB מייצג את העצם. קבע איזה תרשים מתאים לתיאור שבפתיח. נמק את קביעתך.



- ג. עוצמת העדשה היא 2 דיופטרות. מהו רוחק המוקד של העדשה?
- ד. המרחק בין הדמות לעדשה הוא 60cm. חשב את המרחק בין העצם לעדשה.

(21) בגרות 2012 שאלה 1

- עצם ניצב לפני משטח מישורי.
- א. מה צריך להתקיים כדי שתיווצר דמות של העצם על ידי המשטח?
- ב. כאשר נוצרת דמות של העצם על ידי המשטח, איזה תנאי חייב להתקיים כדי שצופה המתבונן במשטח יראה בו את הדמות של העצם?
- באיור שלפניך מתואר חתך של מראה מישורית MN המכוסה במרכזו בכיסוי בד אטום. בנקודה A נמצא עצם נקודתי.
- בכל אחת מהנקודות B ו-C נמצא צופה (צופה B, צופה C). הנקודות A, B, C נמצאות על אותו מישור.

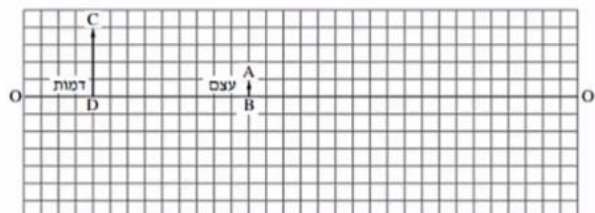


העתק למחברתך את התרשים כך שכל משבצת בתרשים תיוצג בתרשים תיוצג על ידי משבצת במחברתך.

- ג. האם צופה B וצופה C רואים את הדמות A באותו מקום? הסבר.
- ד. צלע של משבצת אחת מייצגת מרחק של 20 ס"מ במציאות. חשב את המרחק של הצופה הנמצא בנקודה C מהדמות של העצם A.
- ה. צופה C מביט אל עבר המראה, אך אינו רואה בה את דמות העין של צופה B. האם צופה B המביט אל עבר המראה רואה בה את דמות העין של צופה C? הסבר.

22) בגרות 2011 שאלה 1

בתרשים שלפניך הקטע OO' מסמן ציר אופטי של עדשה דקה (העדשה אינה מוצגת בתרשים). הקטע AB מסמן עצם, והקטע CD מסמן את הדמות של העצם הנוצרת בעזרת העדשה. הצלע של כל משבצת בתרשים – 1 ס"מ.



א. מדוע הדמות המתוארת בתרשים יכולה להיווצר רק בעזרת עדשה מרכזת?

העתק למחברתך את התרשים כך שכל משבצת בתרשים תיוצג על ידי משבצת במחברתך. השתמש בתרשים שסרטטת כדי לענות על סעיפים ב'-ג'.

ב. מצא, בעזרת סרטוט של מהלך קרני האור, את מיקום העדשה, והוסף אותה לתרשים.

ג. מצא את רוחק המוקד של העדשה בשתי דרכים:

i. סרטוט של מהלך קרני האור.

ii. חישוב.

ד. כשהמרחק בין העצם לעדשה גדול מערך מסוים u_1 , נוצרת דמות הפוכה ביחס לעצם. קבע מהו u_1 .

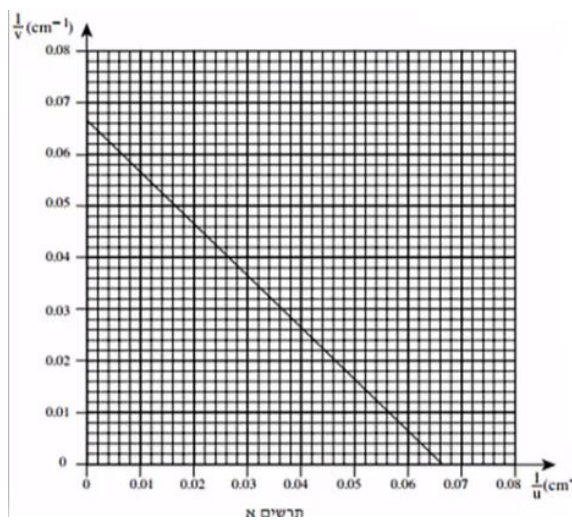
ה. כשהמרחק בין העצם לעדשה שווה לערך מסוים u_2 , הגדול מ- u_1 , נוצרת דמות באותו גובה של הדמות CD שבתרשים. מצא את u_2 .

23) בגרות 2009 שאלה 1

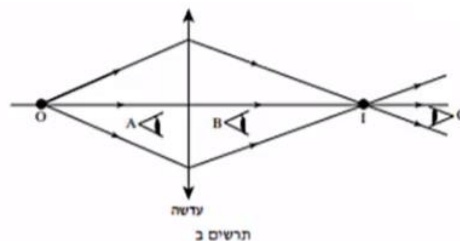
ברק הציב מקור אור במרחקים שונים מעדשה דו-קמורה דקה. בכל פעם הוא מדד את המרחק של מקור האור מן העדשה (u), ואת המרחק של המסך שעליו התקבלה דמות חדה של מקור האור מן העדשה (v). לאחר מכן הוא חישב את ערכי $\frac{1}{u}$ ו- $\frac{1}{v}$, ועל פי ערכים אלה סרטט גרף של $\frac{1}{v}$ (ביחידות cm^{-1}) כפונקציה

של $\frac{1}{u}$ (ביחידות cm^{-1}).

הגרף מוצג בתרשים א'.



- א. הסבר מדוע הגרף שהתקבל הוא קו ישר.
- ב. מצא בעזרת הגרף את רוחק המוקד של העדשה. פרט את חישוביך.
- ג. כאשר הציב ברק את מקור האור במרחק 10 ס"מ מן העדשה, הוא לא הצליח למקם את המסך כך שתתקבל עליו דמות חדה של מקור האור. הסבר מדוע.
- ד. בתרשים ב' שלפניך מתואר עצם נקודתי O ודמותו I, הנוצרת על ידי עדשה מרכזת דקה.



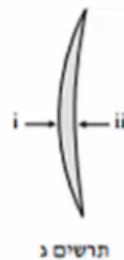
האם אפשר לראות את הדמות I גם ללא מסך?
 אם כן – באיזו מהנקודות A, B או C צריכה להימצא העין (על פי כיווני ההסתכלות שלה המתוארים בתרשים) כדי לראות את הדמות I?

אם לא – היעזר בתרשים ב', והסבר מדוע אי-אפשר לראות את הדמות ללא מסך.

ה. בתרשים ג' שלפניך מתואר חתך של עדשה קמורה-קעורה דקה עשויה מזכוכית. מטילים על העדשה פעמיים אלומת אור מקבילה ואופקית, המתפשטת באוויר:

במקרה i אלומת האור פוגעת תחילה במשטח הקמור.

במקרה ii אלומת האור פוגעת תחילה במשטח הקעור.



העתק למחברתך את המספר של המשפט הנכון מבין המשפטים i-iv שלפניך:

- i. העדשה מרכזת את האור בשני המקרים.
- ii. העדשה מרכזת את האור במקרה i ומפזרת אותו במקרה ii.
- iii. העדשה מפזרת את האור במקרה i ומרכזת אותו במקרה ii.
- iv. העדשה מפזרת את האור בשני המקרים.

24 בגרות 2007 שאלה 2

על ספסל אופטי המונח על שולחן, מציבים מקור אור שצורתו מלבן (מלבן מלא). עדשה מרכזת שרוחק המוקד שלה הוא: $f = 30\text{cm}$, ומסך.

מקור האור, העדשה והמסך מקבילים זה לזה.

שתיים מהצלעות של מקור האור המלבני מאונכות לשולחן. הדמות של מקור האור מתקבלת על המסך, וגובהה גדול פי 2 מהגובה של מקור האור.

א. חשב את המרחק של מקור האור מן העדשה.

ב. פי כמה גדול שטח הדמות מהשטח של מקור האור? נמק.

ג. מציבים את מקור האור במרחק 160cm מן המסך.

באיזה מרחק ממקור האור יש להציב את העדשה, כדי שתתקבל על המסך דמות חדה שלו? אם יש יותר מאפשרות אחת, כתוב את כולן.

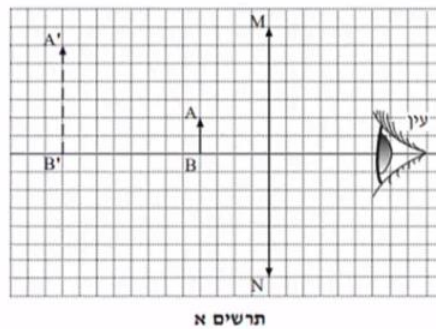
האזור שלפניך הוא העתק של תצלום שבו מראה מישורית המונחת על לוח עץ, ופנס הפנס פולט אלומת אור הפוגעת בלוח העץ ובמראה שעליו. מלבד הפנס אין מקורות אור נוספים.



ד. מדוע המראה שבתצלום נראית חשוכה, ואילו החלק של לוח העץ שבו פוגעת אלומת האור נראה מואר?

25) בגרות 2004 שאלה 1

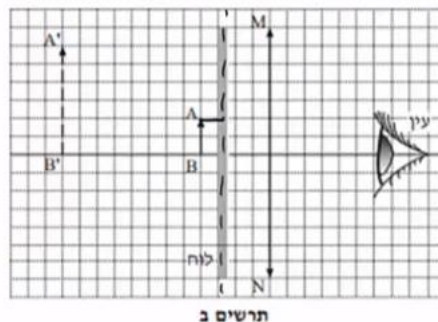
בתרשים א' מוצגת מערכת, ובה עדשה מרכזת, MN , הציר האופטי שלה, בול דואר, AB , הדמות של הבול, $A'B'$, הנוצרת על ידי העדשה, ועין הצופה המתבונן בבול. אורך הצלע של כל משבצת בתרשים מייצג מרחק של 5 ס"מ במציאות.



א. ענה על הסעיפים הבאים:

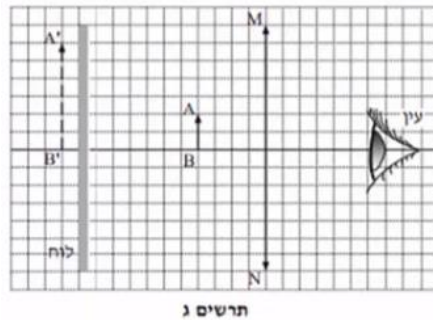
- i. מצא את אורך מוקד העדשה.
- ii. חשב את עוצמת העדשה. הצג את תשובתך בדיופטר.

באותה מערכת מציבים לוח אטום לאור לפני הבול, בין הבול לעדשה (ראה תרשים ב').



ב. האם במצב זה יוכל הצופה לראות את הבול? נמק.

את הלוח האטום לאור מעבירים אל מאחורי הבול, כמוצג בתרשים ג'.



ג. האם במצב זה יוכל הצופה לראות את הבול? נמק.

ד. מסלקים את הלוח האטום. הבול, העדשה והעין נשארים במקומם. הצופה מתבונן בבול דרך העדשה (ראה תרשים א'), ואחר כך הוא מסלק את העדשה ומתבונן בבול.

באיזה משני המצבים (עם העדשה או בלי העדשה) הבול נראה לצופה גדול יותר? הסבר את תשובתך במונחים של זוויות ראייה.

ה. העתק למחברתך את תרשים א'. (כל משבצת בתרשים תהיה משבצת במחברת). סרטט קרן, המופצת מראש הבול (A), עוברת בעדשה, וחודרת למרכז האישון של עין הצופה.

תאר כיצד קבעת את מהלך הקרן שסרטטת.

תשובות סופיות:

- (1) א. ראה סרטון. ב. i. 6m . ד. ראה סרטון. ג. 2.4m . ii. 6m
- (2) א. $t = 1.28 \text{ sec}$. ב. $t \cong 8\frac{1}{3} \text{ min}$. ג. $t = 10^{-9}$. ד. $9.47 \cdot 10^{15} \text{ m}$
- (3) ראה סרטון.
- (4) א. ראה סרטון. ב. ראה סרטון. ג. כן. ד. 0.85m . ה. ללא שינוי.
- (5) 2.43m
- (6) א. 26.3° . ב. ראה סרטון.
- (7) א. לא. ב. $\sin \theta_2 = \frac{n_1}{n_2} \cdot \sin \theta_1$. ג. ראה סרטון. ד. 1.353
- (8) ראה סרטון.
- (9) ראה סרטון.
- (10) א. ראה סרטון. ב. i. $V = 24 \text{ cm}$. ג. הפוכה, מוגדלת, ממשית. ד. ראה סרטון. ii. $H_i = 8 \text{ cm}$
- (11) א. ראה סרטון. ב. i. $V \approx 6.5 \text{ cm}$. ג. לא. ד. כן. ii. $H_i \approx 7.95 \text{ cm}$. ה. כן.
- (12) א. i. $V = -4.4 \text{ cm}$. ב. ראה סרטון. ii. $H_i = 2.2 \text{ cm}$. ג. ראה סרטון. iii. מדומה, מוקטנת, ישרה.
- (13) א. ראה סרטון. ב. ראה סרטון. ג. $h = 0.6 \text{ m}$
- (14) א. ראה סרטון. ב. 1.85 . ג. נמוך יותר.
- (15) א. i. ישרה. ii. מדומה. iii. מוקטנת. ב. מפזרת. ג. ראה סרטון. ד. $V = 4 \text{ cm}$, $H_i = 2 \text{ cm}$, כן.
- (16) א. החזרה מסודרת, מתקבלת דמות במפגש הקרניים המוחזרות. ב. 1.5sec . ג. IV
- (17) א. לעבר המפה. ב. ראה סרטון. ג. כל משטח מתפקד כמראה עצמאית. ד. דמות 1
- (18) א. ראה סרטון. ב. $\theta_c = 23.2^\circ$. ג. ראה סרטון.
- (19) א. ראה סרטון. ב. $r = 1.14 \text{ m}$. ג. ראה סרטון. ד. $x = 2.28 \text{ m}$. ה. ראה סרטון.
- (20) א. דמות ממשית – מתקבלת במפגש המשכי הקרניים הממשיות. ב. תרשים ב'. דמות מדומה – מתקבלת בנקודת מפגש המשכי הקרניים המדומות. ג. 50cm . ד. $u = 27.3 \text{ cm}$

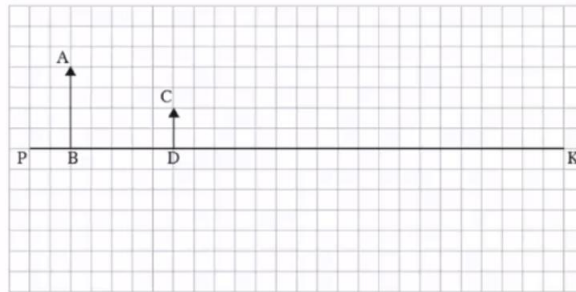
- (21)** א. 1. קרניים שיצאו מהסוף, 2. ההחזרה מהמשטח תהיה מסודרת.
 ב. הצופה יימצא בשדה בראייה של הדמות. ג. כן. ד. $2m$.
 ה. לא.
- (22)** א. הדמות לא יכולה להיווצר בעדשה מפזרת. ב. ראה סרטון.
 ג. $4cm$. ד. $u > f$. ה. $u_2 = 8cm$.
- (23)** א. ראה סרטון. ב. $15.1cm$. ג. ראה סרטון.
 ד. כן. ה. i.
- (24)** א. $u = 45cm$. ב. פי 4. ג. $u_1 = 120cm$, $u_2 = 40cm$.
 ד. ראה סרטון.
- (25)** א. i. $f = 30cm$. ii. $C = 3.33D$. ב. לא. ג. כן.
 ד. ראה סרטון. ה. ראה סרטון.

מבחני בגרות באופטיקה:

שאלות:

1 קרינה וחומר 2020 שאלה 1

בתרשים 1 שלפניך מסורטט ציר אופטי ראשי, PK, של עדשה דקה שקוטרה 12 ס"מ. העדשה אינה מסומנת בתרשים. העמידו עצם מול העדשה – החץ AB מסמן את גודלו ואת מיקומו. החץ CD מסמן את גודלה ומיקומה של דמות שנוצרה באמצעות עדשה זו. האורך של כל צלע של משבצת בתרשים הוא 1 ס"מ.



תרשים 1

א. הסבר מדוע הדמות CD יכולה להיווצר אך ורק באמצעות עדשה מפזרת.
ב. ענה על הסעיפים הבאים:

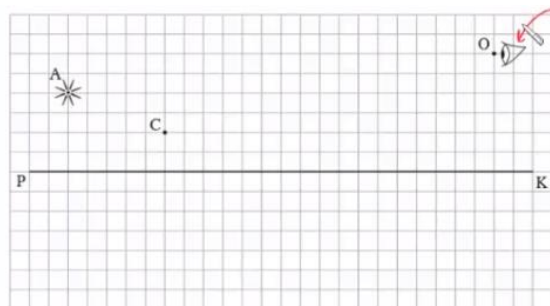
i. העתק את תרשים 1 למחברתך. כל משבצת בתרשים תיוצג על ידי משבצת במחברתך. קבע את מיקום העדשה באמצעות סרטוט של מהלך קרני האור בתרשים שבמחברתך.

ii. הוסף לתרשים שבמחברתך סרטוט של העדשה.

ג. קבע את רוחק המוקד של העדשה באמצעות הוספת סרטוט של מהלך קרני האור לתרשים שבמחברתך.

ד. השתמש בנוסחה וחשב את רוחק המוקד.

הציבו בנקודה A מקור אור נקודתי במקום העצם AB, בלי לשנות את מיקום העדשה. עין של צופה הנמצאת בנקודה O רואה דרך העדשה את דמותו של מקור האור בנקודה C (ראה תרשים 2).



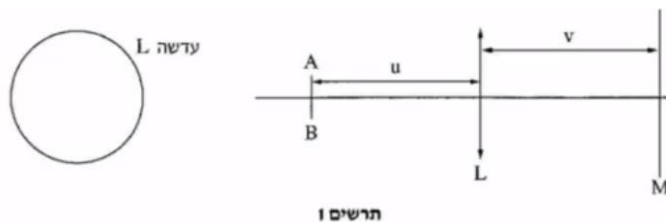
תרשים 2

ה. ענה על הסעיפים הבאים :

- i. העתק את תרשים 2 למחברתך. כל משבצת בתרשים תיוצג על ידי משבצת במחברתך. הוסף לתרשים שבמחברתך סרטוט של העדשה.
 - ii. סרטט בתרשים שבמחברתך מהלך של קרן היוצאת ממקור האור הנמצא בנקודה A, עוברת דרך העדשה שסרטטת ופוגעת בעין הנמצאת בנקודה O.
- ו. באותו מקום שהייתה העדשה הציבו עדשה מפזרת אחרת שיש לה אותו רוחק מוקד, אך הקוטר שלה 4 ס"מ. קבע אם העין רואה את הדמות של מקור האור. נמק את קביעתך.

(2) קרינה וחומר 2019 שאלה 1

תלמידה התבקשה לחקור את מאפייניה של עדשה מרכזת. התלמידה הציבה את העדשה L בין מקור אור קווי AB (שאינו נקודתי), שגודלו קטן מקוטר העדשה, ובין מסך M, כמתואר בתרשים 1.



התלמידה שינתה כמה פעמים את מיקומו של מקור האור, ובכל פעם היא מיקמה מחדש את המסך באופן שתתקבל על המסך דמות ברורה של מקור האור. בכל פעם מדדה התלמידה ורשמה את מרחק מקור האור מן העדשה, u , ואת מרחק המסך מן העדשה, v . תוצאות המדידות של התלמידה מוצגות בטבלה שלפניך :

המדידה	1	2	3	4	5
$u(m)$	0.13	0.18	0.25	0.33	0.60
$v(m)$	0.44	0.22	0.16	0.14	0.12
$\frac{1}{u} ()$					
$\frac{1}{v} ()$					

- א. רשום ביטוי של $\frac{1}{v}$ כפונקציה של $\frac{1}{u}$ והראה כי מתקיים ביניהם קשר לינארי.
 ב. העתק את הטבלה למחברתך, והשלם בטבלה שבמחברתך את הערכים החסרים ואת היחידות.
 ג. סרטט גרף של $\frac{1}{v}$ כפונקציה של $\frac{1}{u}$ והוסף בו את קו המגמה.
 ד. על פי הגרף בלבד מצא את רוחק המוקד של העדשה. הסבר את שיקולך.

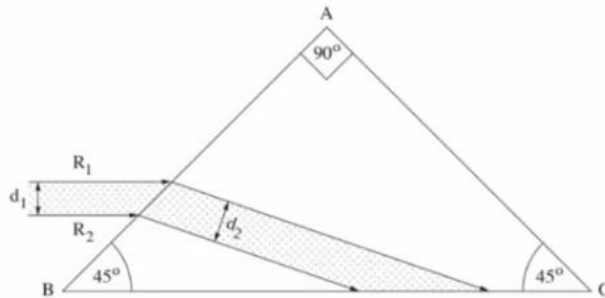
התלמידה הציבה את מקור האור AB ואת העדשה L באופן שתיוצר דמות ברורה על המסך, ואז כיסתה חלק מן העדשה בטבעת שחורה אטומה לאור, כמתואר בתרשים 2.



- ה. מבין המשפטים i-vi שלפניך, העתק למחברתך את המשפט המתאר (או את המשפטים המתארים) נכון את הדמות שהתקבלה:
 i. על המסך התקבלה דמות חלקית, ברורה, ועוצמת ההארה שלה לא השתנתה.
 ii. על המסך התקבלה דמות חלקית, ברורה, ועוצמת ההארה שלה חלשה יותר.
 iii. על המסך התקבלה דמות מלאה, ברורה, ועוצמת ההארה שלה לא השתנתה.
 iv. על המסך התקבלה דמות מלאה, ברורה, ועוצמת ההארה שלה חלשה יותר.
 v. על המסך התקבלה דמות מלאה, מטושטשת, ועוצמת ההארה שלה חלשה יותר.
 vi. על המסך התקבלה דמות חלקית, מטושטשת, ועוצמת ההארה שלה חלשה יותר.

3) קרינה וחומר 2018 שאלה 1

בתרשים שלפניך מוצג חתך של אלומה מקבילה של אור מונוכרומטי, החודרת מן האוויר לתוך מנסרה משולשת. האלומה הפוגעת במנסרה מקבילה לבסיס המנסרה BC. המנסרה עשויה מזכוכית, ועבור אורך הגל של האלומה מקדם השבירה של הזכוכית (ביחס לאוויר) הוא 1.6. זוויות המנסרה רשומות בתרשים.



אלומת האור נשברת בפאה AB, פוגעת בפאה BC, ומוחזרת ממנה החזרה פנימית מלאה.

א. חשב את זווית השבירה של האור בפאה AB.

ב. הוכח שמתרחשת החזרה פנימית מלאה מן הפאה BC.

ג. R_1 ו- R_2 הן קרניים התוחמות את חתך האלומה (ראה תרשים).

ד. ענה על הסעיפים הבאים:

i. העתק את התרשים למחברתך. הוסף בתרשים שבמחברתך את מהלך

המשכי הקרניים R_1 ו- R_2 בהתפשטותן לעבר הפאה AC, וכן את

המשכי הקרניים באוויר לאחר שהן עוברות דרך הפאה AC.

ii. קבע אם האלומה שיוצאת מן המנסרה דרך הפאה AC מקבילה

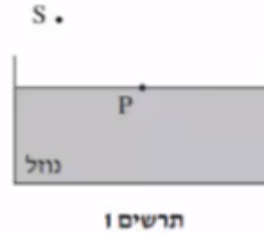
לאלומה הפוגעת בפאה AB. נמק את קביעתך.

ד. קבע אם האלומה שיוצאת מן המנסרה דרך הפאה AC הקרן R_1 נמצאת

מעל הקרן R_2 (כמו בכניסה) או מתחתיה. נמק את קביעתך.

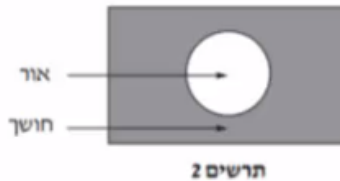
4) מכניקה 2018 שאלון ישן שאלה 7

מקור אור נקודתי S נמצא באוויר ($n = 1$). קרן אור שנפלטת מן המקור מתקדמת באוויר, ופוגעת בנקודה P שעל פני נוזל שנמצא בכלי (ראה תרשים 1). חלק מן האור מוחזר וחלק נשבר. מקור האור S הוא היחיד בסביבה.



- א. העתק את התרשים למחברתך והוסף בו:
- את קרן האור הנפלטת מן המקור S ופוגעת בנוזל בנקודה P.
 - את מהלך קרן האור המוחזרת מפני הנוזל בנקודה P.
 - את מהלך קרן האור הנשברת בתוך הנוזל.
- ב. סמן על גבי סרטוטך את זווית הפגיעה של קרן האור באות α , את זווית ההחזרה באות β , ואת זווית השבירה באות γ .
- ג. קבע אם במקרה זה זווית ההחזרה β גדולה מזווית השבירה γ , קטנה ממנה או שווה לה. נמק את קביעתך.
- נתון $\alpha = 51^\circ$, הזווית בין הקרן הנשברת לקרן המוחזרת היא 90° .
- ד. חשב את מקדם השבירה של הנוזל.

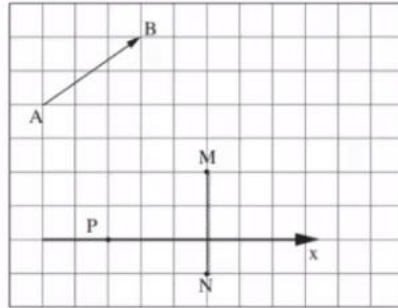
מניחים את מקור האור הנקודתי במרכז התחתית של הכלי שבו הנוזל. האור יוצא מן הנוזל לאוויר רק דרך חלק מפני הנוזל (ראה תרשים 2).



ה. הסתמך על חוקי השבירה והסבר תופעה זו.

5) מכניקה 2018 שאלון ישן שאלה 6

בתרשים שלפניך מוצגים חתך של מראה מישורית MN, גוף AB שצורתו חץ ונקודה P שבה נמצאת עין של צופה. אורך הצלע של כל משבצת בתרשים מייצגת אורך 20 ס"מ במציאות.



- א. העתק את התרשים למחברתך. כל משבצת תיוצג על ידי משבצת במחברתך.
 ב. הוסף לתרשים שבמחברתך:
 i. את הדמות A_1B_1 של הגוף AB הנוצרת על ידי המראה.
 ii. את מהלך הקרן היוצאת מן הקצה A של הגוף, פוגעת במראה ומוחזרת ממנה לנקודה P (העין). פרט את שיקוליך.

הצופה (העין) יכול לנוע לאורך ציר ה-x המסומן בתרשים.

- ג. קבע אם עליו להתרחק מן המראה או להתקרב אליה כדי לראות במראה חלק גדול יותר מן הדמות A_1B_1 .
 ד. היעזר בתרשים וקבע מהו המרחק המינימלי (בסנטימטרים) מן הנקודה P שהעין צריכה לעבור לאורך ציר ה-x כדי לראות את הדמות A_1B_1 במלואה (שים לב לקנה המידה).

6) בגרות 2017 שאלה 6

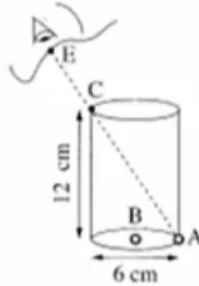
רמי ישב ליד בריכה ריקה. בתחתית הבריכה הונח מטבע, אבל ממקום מושבו של רמי לא היה אפשר לראות את המטבע כשהבריכה ריקה. התחילו למלא את הבריכה במים, וברגע מסוים ראה רמי את המטבע (רמי והמטבע לא זזו). מקדם השבירה של המים הוא: $n = 1.33$.

- א. הגדר את תופעת השבירה של האור, וציין את סיבתה.
 ב. הסבר מדוע ראה רמי את המטבע רק לאחר שהבריכה התמלאה חלקית במים. לווה את תשובתך בסרטוט מהלך קרניים.

נתון: קרן היוצאת מן המטבע ומגיעה לעין של רמי עוברת בתוך המים מרחק $d = 0.61\text{m}$.
 זווית השבירה של קרן זו היא: $\beta = 13.6^\circ$.
 ג. חשב את עומק המים.

7 בגרות 2016 שאלה 7

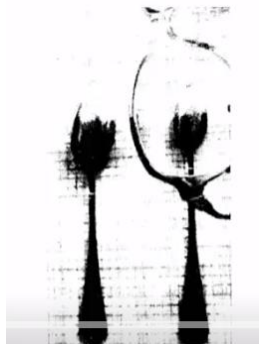
בתרשים שלפניך מוצב כלי ריק שצורתו גליל. גובה הכלי 12cm וקוטרו 6cm. בתחתית הכלי מונחים שני חרוזים קטנים מאוד: חרוז A צמוד לדופן הכלי וחרוז B במרכז התחתית של הכלי.



- תלמיד הביט אל תוך הכלי בכיוון EC (הנקודה C נמצאת על שפת הכלי). כאשר הכלי היה ריק התלמיד ראה את חרוז A בלבד. מילאו את הכלי עד שפתו בנוזל שקוף. התלמיד הסתכל באותו כיוון וראה את חרוז B בלבד.
- א. העתק את תרשים הכלי והעין למחברתך בלי הקו המקווקו. הוסף לתרשים שבמחברתך קרן אור שמגיעה מחרוז B, עוברת בתוך הנוזל אל נקודה C ומגיעה לעין התלמיד.
- סמן בתרשים שבמחברתך את זווית הפגיעה (α) ואת זווית השבירה (β) במעבר של קרן האור מהנוזל לאוויר.
- ב. חשב את מקדם השבירה של הנוזל.
- ג. קבע אם חרוז B נראה לתלמיד בעומק האמיתי שהוא היה בו, גבוה יותר או נמוך יותר. נמק את קביעתך באמצעות סרטוט תרשים נוסף של הכלי ומהלך הקרניים.

8 בגרות 2016 שאלה 6 עדשות

תלמידה רצתה לבדוק את סוג העדשות במשקפיים של דודתה. לשם כך הניחה התלמידה שתי כפיות זהות על השולחן, והניחה עדשה של המשקפיים מעל אחת הכפיות. בתרשים שלפניך נראה תצלום הכפיות והמשקפיים שצילמה התלמידה.



- א. בכל אחת מן האפשרויות i-iii שלפניך, קבע מהו המאפיין הנכון של דמות הכפית הנראית מבעד לעדשה:
- ישרה או הפוכה.
 - ממשית או מדומה.
 - מוגדלת או מוקטנת.
- ב. האם העדשה מרכזת או מפזרת? נמק את תשובתך.
- ג. מצא את דמות הכפית באמצעות סרטוט מדויק של מהלך שלוש קרניים. נתון: רוחק מוקד העדשה: $|f| = 12\text{cm}$, מרחק העצם מהעדשה 6cm , גובה העצם 3cm .
בסרטוט השתמש בקנה מידה של 1 משבצת= 1 ס"מ.
- ד. חשב באמצעות נוסחאות את גובה הדמות ואת מרחקה מהעדשה.
האם תוצאות החישוב מתאימות לאותם ערכים שהתקבלו בסרטוט?

9) בגרות 2015 שאלה 7

ילד הלובש חולצה שעליה מודפסת האות F עומד מול מראה מישורית התלויה על קיר (ראה איור).



- א. מהי התופעה הפיזיקאלית שגורמת להשתקפות הילד רק במראה ולא בקיר?
- ב. המרחק של הילד מן המראה היה 1 מטר, והוא החל להתקרב אליה במהירות קבועה: $v = 0.5 \frac{\text{m}}{\text{sec}}$.
חשב בתוך כמה זמן יהיה המרחק בין הילד ובין דמותו 0.5 מטר.
- ג. לפניך ארבע צורות IV-I של האות F. העתק למחברתך את המספר של צורת הדמות של האות F, כפי שהילד שמסתכל במראה רואה אותה.



10) בגרות 2014 שאלה 6

יאיר ישב במכונית ורצה לעיין במפה שבידיו (זה היה לפני עידן ה-G.P.S).
בחוץ שרר חושך, ולכן יאיר הדליק נורה בתוך המכונית.

א. כדי שיראה היטב את המפה, האם על יאיר לכוון את אלומת האור מן הנורה לעבר עיניו או לעבר המפה? נמק.

לאחר שיאיר הדליק את הנורה הוא התבונן בשמשת החלון של מכוניתו. הוא לא ראה את הסביבה שבחוץ, אלא את דמותו המשתקפת בשמשת החלון.

ב. הסבר באמצעות תרשים כיצד נוצרת הדמות המשתקפת בשמשת החלון.

יאיר מאס בפקקי התנועה שבכבישים, והחליט לנסוע ברכבת. בתוך קרון הרכבת דלק אור, ומחוץ לרכבת שרר חושך. יאיר הבחין בשתי דמויות שלו המשתקפות בחלון הרכבת. חלון הרכבת מורכב משני לוחות זכוכית מקבילים וביניהם מרווח שבו שכבת אוויר.

אפשר להזניח את העובי של לוחות הזכוכית.

ג. מדוע ברכבת הבחין יאיר בשתי דמויות, ולא בדמות אחת, כפי שראה במכוניתו? פרט את תשובתך.

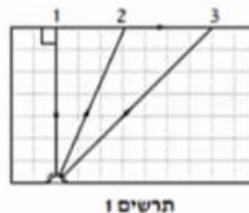
ד. באותם תנאי תאורה הכניסו נייר שחור למרווח שבין שני לוחות הזכוכית. הנייר אוטם את כל המרווח. כמה דמויות השתקפו בחלון? נמק.

11) בגרות 2014 שאלה 7

מקור אור נקודתי נמצא בתוך מנסרה מלבנית (תיבה) העשויה מחומר שקוף. המנסרה נמצאת באוויר.

בתרשים 1 מוצג חתך של המנסרה המקביל לשתיים מדופנות המנסרה, וכן מוצג בו מהלכן של שלוש קרניים 1, 2, 3, שמקורן במקור האור.

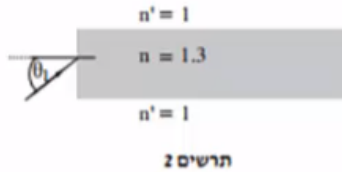
זווית השבירה של קרן 2 היא 90° בקירוב.



א. העתק את תרשים 1 למחברתך, והשלם בו במדויק את המשך המבליך של קרן 1 ושל קרן 3. הסבר את שיקולך.

ב. על פי התרשים, חשב את הזווית הגבולית (קריטית) למעבר אור מן החומר השקוף לאוויר.

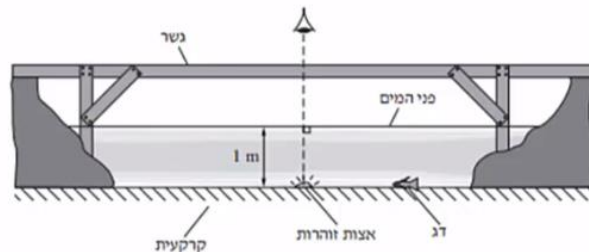
אפשר להעביר מידע למרחקים גדולים באמצעות סיבים אופטיים שאור מתפשט דרכם כמעט בלי הפסדי אנרגיה. בתרשים 2 מתואר חתך של סיב אופטי העשוי מחומר שקוף שמקדם השבירה שלו: $n = 1.3$, וקרן אור נכנסת לתוכו מן האוויר בזווית פגיעה θ_1 .



ג. כאשר האור נכנס לסיב מהצד (כמתואר בתרשים 2), זווית הפגיעה θ_1 צריכה להיות קטנה מ- 57° כדי למנוע דליפת (יציאת) אור מהסיב לאוויר. הסבר מדוע. בתשובתך היעזר בתרשים.

12) בגרות 2013 תרגיל 1

בגן חיות יש בריכה ובה דגים ויצורי מים מיוחדים. מושבה של אצות זוהרות (פולטות אור) נחה על קרקעית הבריכה, בעומק של 1 מטר. מקדם השבירה של מי הבריכה ביחס לאוויר הוא: $n = 1.33$. מעל הבריכה נמתח גשר שממנו המבקרים יכולים לצפות בבריכה (ראה תרשים). התייחס למושבת האצות כאל מקור אור נקודתי.



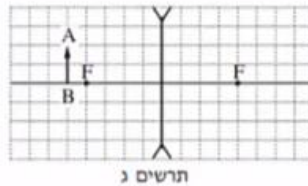
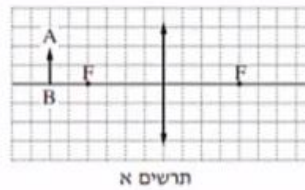
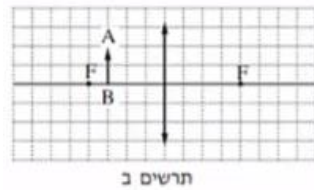
- האור שנפלט ממושבת האצות לעבר פני המים עובר לאוויר דרך משטח מעגלי של פני המים. הסבר מדוע. היעזר בתרשים מתאים.
- חשב את הרדיוס של המשטח המעגלי שהאור עובר דרכו לאוויר.
- אדם הניצב על הגשר בדיוק מעל מושבת האצות רואה אותה בעומק קטן יותר מהעומק האמיתי שהיא נמצאת בו. הסבר מדוע.
- דג השוחה על קרקעית הבריכה, בעומק 1 מטר, רואה את השתקפות האצות באמצעות קרני אור המוחזרות מפני המים. חשב את המרחק (האופקי) המינימלי בין הדג לבין מושבת האצות, שהוא יכול לראות בו את השתקפות האצות באמצעות קרני אור המוחזרות בהחזרה מלאה.
- כאשר הדג בעומק של 1 מטר, אבל המרחק בינו לבין מושבת האצות קטן יותר מהמרחק שחייבת בסעיף ד', הוא עדיין רואה את השתקפות האצות בפני המים. הסבר מדוע.

13) בגרות עדשות 2013 שאלה 6

אדם המרכיב משקפיים עם עדשות מרכזות זהות רואה בעזרתם את הדמות המדומה של עצם.

א. הסבר את המושגים "דמות ממשית" ו"דמות מדומה", בהסברך תוכל להיעזר בתרשימים.

ב. בתרשימים א'-ג' שלפניך החץ AB מייצג את העצם. קבע איזה תרשים מתאים לתיאור שבפתיח. נמק את קביעתך.



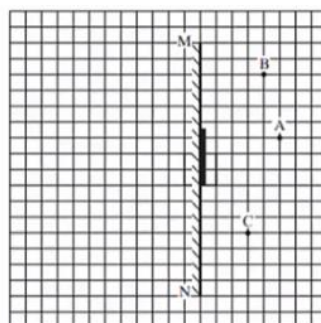
- ג. עוצמת העדשה היא 2 דיופטריות. מהו רוחק המוקד של העדשה?
 ד. המרחק בין הדמות לעדשה הוא 60cm. חשב את המרחק בין העצם לעדשה.

14) בגרות 2012 שאלה 1

עצם ניצב לפני משטח מישורי.

- א. מה צריך להתקיים כדי שתיווצר דמות של העצם על ידי המשטח?
 ב. כאשר נוצרת דמות של העצם על ידי המשטח, איזה תנאי חייב להתקיים כדי שצופה המתבונן במשטח יראה בו את הדמות של העצם?

באיור שלפניך מתואר חתך של מראה מישורית MN המכוסה במרכזו בכיסוי בד אטום. בנקודה A נמצא עצם נקודתי. בכל אחת מהנקודות B ו-C נמצא צופה (צופה B, צופה C). הנקודות A, B, C נמצאות על אותו מישור.

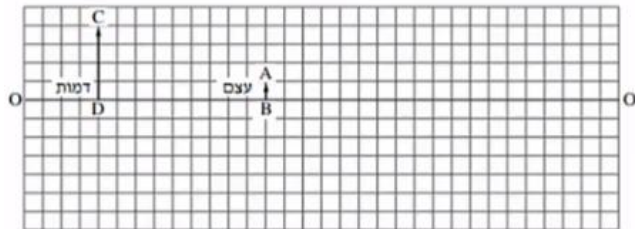


העתק למחברתך את התרשים כך שכל משבצת בתרשים תיוצג בתרשים תיוצג על ידי משבצת במחברתך.

- ג. האם צופה B וצופה C רואים את הדמות A באותו מקום? הסבר.
- ד. צלע של משבצת אחת מייצגת מרחק של 20 ס"מ במציאות. חשב את המרחק של הצופה הנמצא בנקודה C מהדמות של העצם A.
- ה. צופה C מביט אל עבר המראה, אך אינו רואה בה את דמות העין של צופה B. האם צופה B המביט אל עבר המראה רואה בה את דמות העין של צופה C? הסבר.

15) בגרות עדשות 2011

בתרשים שלפניך הקטע OO' מסמן ציר אופטי של עדשה דקה (העדשה אינה מוצגת בתרשים). הקטע AB מסמן עצם, והקטע CD מסמן את הדמות של העצם הנוצרת בעזרת העדשה. הצלע של כל משבצת בתרשים – 1 ס"מ.



א. מדוע הדמות המתוארת בתרשים יכולה להיווצר רק בעזרת עדשה מרכזת?

העתק למחברתך את התרשים כך שכל משבצת בתרשים תיוצג על ידי משבצת במחברתך. השתמש בתרשים שסרטטת כדי לענות על סעיפים ב'-ג'.

ב. מצא, בעזרת סרטוט של מהלך קרני האור, את מיקום העדשה, והוסף אותה לתרשים.

ג. מצא את רוחק המוקד של העדשה בשתי דרכים:

i. סרטוט של מהלך קרני האור.

ii. חישוב.

ד. כשהמרחק בין העצם לעדשה גדול מערך מסוים u_1 , נוצרת דמות הפוכה ביחס לעצם. קבע מהו u_1 .

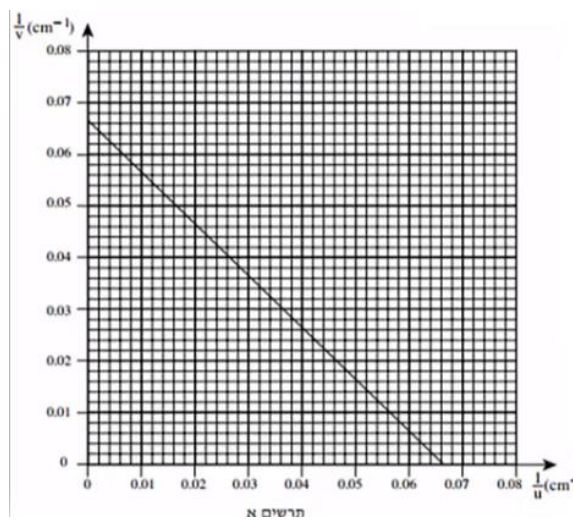
ה. כשהמרחק בין העצם לעדשה שווה לערך מסוים u_2 , הגדול מ- u_1 , נוצרת דמות באותו גובה של הדמות CD שבתרשים. מצא את u_2 .

16 בגרות עדשות 2009

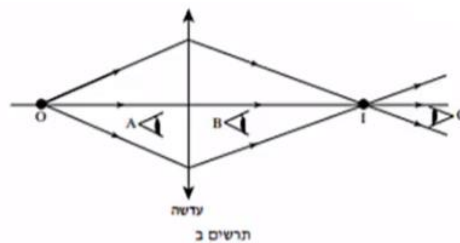
ברק הציב מקור אור במרחקים שונים מעדשה דו-קמורה דקה. בכל פעם הוא מדד את המרחק של מקור האור מן העדשה (u), ואת המרחק של המסך שעליו התקבלה דמות חדה של מקור האור מן העדשה (v). לאחר מכן הוא חישב את ערכי $\frac{1}{u}$ ו- $\frac{1}{v}$, ועל פי ערכים אלה סרטט גרף של $\frac{1}{v}$ (ביחידות cm^{-1}) כפונקציה

של $\frac{1}{u}$ (ביחידות cm^{-1}).

הגרף מוצג בתרשים א'.



- הסבר מדוע הגרף שהתקבל הוא קו ישר.
- מצא בעזרת הגרף את רוחק המוקד של העדשה. פרט את חישוביך.
- כאשר הציב ברק את מקור האור במרחק 10 ס"מ מן העדשה, הוא לא הצליח למקם את המסך כך שתתקבל עליו דמות חדה של מקור האור. הסבר מדוע.
- בתרשים ב' שלפניך מתואר עצם נקודתי O ודמותו I, הנוצרת על ידי עדשה מרכזת דקה.



האם אפשר לראות את הדמות I גם ללא מסך?
 אם כן – באיזו מהנקודות A, B או C צריכה להימצא העין (על פי כיווני ההסתכלות שלה המתוארים בתרשים) כדי לראות את הדמות I?

אם לא – היעזר בתרשים ב', והסבר מדוע אי-אפשר לראות את הדמות ללא מסך.

ה. בתרשים ג' שלפניך מתואר חתך של עדשה קמורה-קעורה דקה עשויה מזכוכית. מטילים על העדשה פעמיים אלומת אור מקבילה ואופקית, המתפשטת באוויר:

במקרה i אלומת האור פוגעת תחילה במשטח הקמור.

במקרה ii אלומת האור פוגעת תחילה במשטח הקעור.



העתק למחברתך את המספר של המשפט הנכון מבין המשפטים i-iv שלפניך:

- i. העדשה מרכזת את האור בשני המקרים.
- ii. העדשה מרכזת את האור במקרה i ומפזרת אותו במקרה ii.
- iii. העדשה מפזרת את האור במקרה i ומרכזת אותו במקרה ii.
- iv. העדשה מפזרת את האור בשני המקרים.

17) בגרות אופטיקה גאומטרית 2007

על ספסל אופטי המונח על שולחן, מציבים מקור אור שצורתו מלבן (מלבן מלא).
עדשה מרכזת שרוחק המוקד שלה הוא: $f = 30\text{cm}$, ומסך.

מקור האור, העדשה והמסך מקבילים זה לזה.
שתיים מהצלעות של מקור האור המלבני מאונכות לשולחן. הדמות של מקור האור מתקבלת על המסך, וגובהה גדול פי 2 מהגובה של מקור האור.

- א. חשב את המרחק של מקור האור מן העדשה.
- ב. פי כמה גדול שטח הדמות מהשטח של מקור האור? נמק.
- ג. מציבים את מקור האור במרחק 160cm מן המסך.
באיזה מרחק ממקור האור יש להציב את העדשה, כדי שתתקבל על המסך דמות חדה שלו? אם יש יותר מאפשרות אחת, כתוב את כולן.

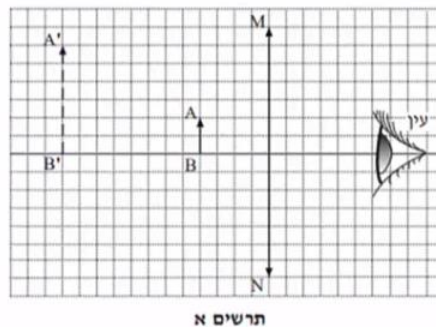
האזור שלפניך הוא העתק של תצלום שבו מראה מישורית המונחת על לוח עץ, ופנס הפנס פולט אלומת אור הפוגעת בלוח העץ ובמראה שעליו. מלבד הפנס אין מקורות אור נוספים.



ד. מדוע המראה שבתצלום נראית חשוכה, ואילו החלק של לוח העץ שבו פוגעת אלומת האור נראה מואר?

18) בגרות עדשות 2004

בתרשים א' מוצגת מערכת, ובה עדשה מרכזת, MN , הציר האופטי שלה, בול דואר, AB , הדמות של הבול, $A'B'$, הנוצרת על ידי העדשה, ועין הצופה המתבונן בבול. אורך הצלע של כל משבצת בתרשים מייצג מרחק של 5 ס"מ במציאות.

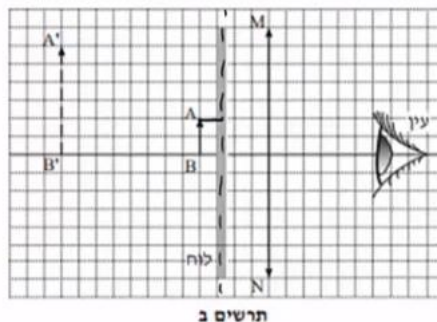


תרשים א

א. ענה על הסעיפים הבאים:

- i. מצא את אורך מוקד העדשה.
- ii. חשב את עוצמת העדשה. הצג את תשובתך בדיופטר.

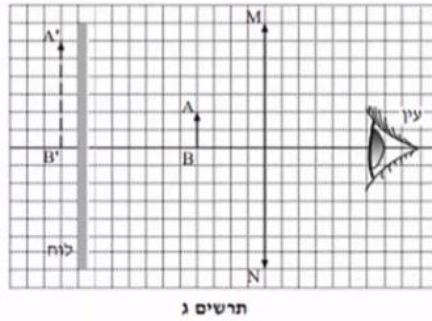
באותה מערכת מציבים לוח אטום לאור לפני הבול, בין הבול לעדשה (ראה תרשים ב').



תרשים ב

ב. האם במצב זה יוכל הצופה לראות את הבול? נמק.

את הלוח האטום לאור מעבירים אל מאחורי הבול, כמוצג בתרשים ג'.



ג. האם במצב זה יוכל הצופה לראות את הבול? נמק.

ד. מסלקים את הלוח האטום. הבול, העדשה והעין נשארים במקומם. הצופה מתבונן בבול דרך העדשה (ראה תרשים א'), ואחר כך הוא מסלק את העדשה ומתבונן בבול.

באיזה משני המצבים (עם העדשה או בלי העדשה) הבול נראה לצופה גדול יותר? הסבר את תשובתך במונחים של זוויות ראייה.

ה. העתק למחברתך את תרשים א'. (כל משבצת בתרשים תהיה משבצת במחברת). סרטט קרן, המופצת מראש הבול (A), עוברת בעדשה, וחודרת למרכז האישון של עין הצופה.

תאר כיצד קבעת את מהלך הקרן שסרטטת.

תשובות סופיות:

(1) א. רק בעדשה מפזרת הדמות מתקבלת ישרה, מוקטנת (ומדומה).

ב. ראה סרטון. ג. ראה סרטון. ד. $f = -10\text{cm}$.
ה. ראה סרטון. ו. לא.

(2) א. $\frac{1}{v} = -\frac{1}{u} + \frac{1}{f}$

ב.

המדידה	1	2	3	4	5
$u(\text{m})$	0.13	0.18	0.25	0.33	0.60
$v(\text{m})$	0.44	0.22	0.16	0.14	0.12
$\frac{1}{u} \left(\frac{1}{\text{m}} \right)$	7.69	5.56	4	3.03	1.67
$\frac{1}{v} \left(\frac{1}{\text{m}} \right)$	2.27	4.54	6.25	7.14	8.33

- ג. ראה סרטון. ד. $f = 9.74\text{cm}$. ה. iv.
- (3) א. $B = 26.2^\circ$. ב. הוכחה. ג. i. ראה סרטון. ד. ii. כן.
ד. מתחתייה.
- (4) א. ראה סרטון. ב. ראה סרטון. ג. גדולה. ד. 1.23.
ה. ראה סרטון.
- (5) א. ראה סרטון. ב. ראה סרטון. ג. להתקרב. ד. 40 ס"מ.
- (6) א. ראה סרטון. ב. ראה סרטון. ג. $h = 0.6\text{m}$.
- (7) א. ראה סרטון. ב. 1.85. ג. נמוך יותר.
- (8) א. i. ישרה. ii. מדומה. iii. מוקטנת. ב. מפזרת.
ג. ראה סרטון. ד. $V = 4\text{cm}$, $H_i = 2\text{cm}$, כן.
- (9) א. החזרה מסודרת, מתקבלת דמות במפגש הקרניים המוחזרות.
ב. 1.5sec. ג. IV.
- (10) א. לעבר המפה. ב. ראה סרטון. ג. כל משטח מתפקד כמראה עצמאית.
ד. דמות 1.
- (11) א. ראה סרטון. ב. $\theta_c = 23.2^\circ$. ג. ראה סרטון.
- (12) א. ראה סרטון. ב. $r = 1.14\text{m}$. ג. ראה סרטון. ד. $x = 2.28\text{m}$.
ה. ראה סרטון.
- (13) א. דמות ממשית – מתקבלת במפגש המשכי הקרניים הממשיות.
דמות מדומה – מתקבלת בנקודת מפגש המשכי הקרניים המדומות.
ב. תרשים ב'. ג. 50cm. ד. $u = 27.3\text{cm}$.

- 14) א. 1. קרניים שיצאו מהסוף, 2. ההחזרה מהמשטח תהיה מסודרת.
 ב. הצופה יימצא בשדה בראייה של הדמות. ג. כן. ד. 2m
 ה. לא.
- 15) א. הדמות לא יכולה להיווצר בעדשה מפזרת. ב. ראה סרטון.
 ג. 4cm ד. $u > f$ ה. $u_2 = 8\text{cm}$
- 16) א. ראה סרטון. ב. 15.1cm ג. ראה סרטון. ד. כן.
 ה. i.
- 17) א. $u = 45\text{cm}$ ב. פי 4 ג. $u_1 = 120\text{cm}$, $u_2 = 40\text{cm}$
 ד. ראה סרטון.
- 18) א. i. $f = 30\text{cm}$ ii. $C = 3.33D$ ב. לא. ג. כן.
 ד. ראה סרטון. ה. ראה סרטון.